

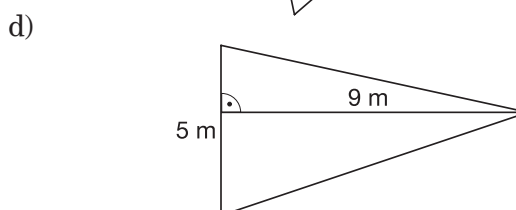
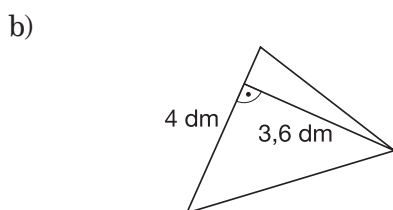
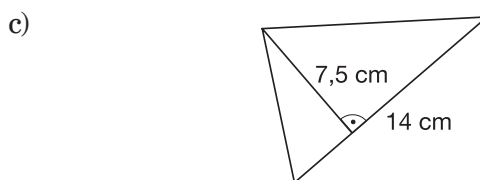
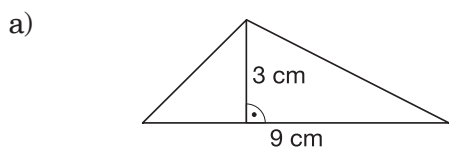
IV Figury na płaszczyźnie

Trójkąty – karta pracy IV.3.1

Oblicz zgodnie z poleceniem. ► Jeśli poprawnie wykonasz dwa kolejne przykłady z jednego poziomu, możesz przejść na następny poziom.

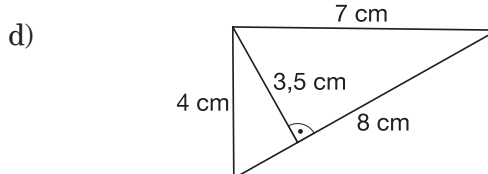
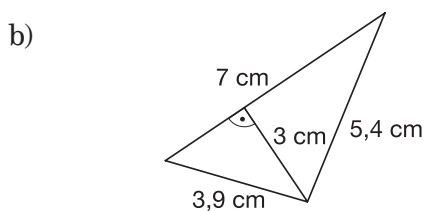
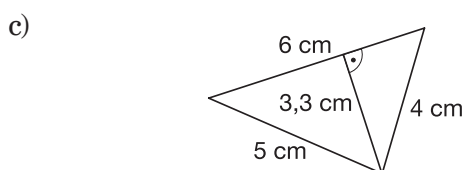
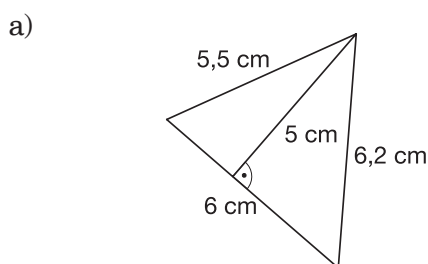
Poziom A

Oblicz pole trójkąta o wymiarach podanych na rysunku.



Poziom B

Oblicz pole i obwód trójkąta o wymiarach podanych na rysunku.



Poziom C

Szary wielokąt wycięto z prostokąta o wymiarach 10 cm × 20 cm. Oblicz pole tego wielokąta. Długości odcinków na rysunku są podane w centymetrach.

